

---

Прізвище ім'я:

Клас:

Дата:

## Ландшафтний дизайн

### ? Запитання №1 (з однією правильною відповіддю)

Де з'явилися перші окультурені ділянки землі з зростаючими на них деревами і чаганриками ?

- А) Київ
- Б) Канада
- В) Месопотамія
- Г) Зімбабве


### ? Запитання №2 (з однією правильною відповіддю)

З якою ціллю створювали перші сади?

- А) Вирощування плодкових культур
- Б) Вирощування квіткових насаджень
- В) Для розмноження метеликів
- Г) Для відкриття нових видів птахів

? Запитання №3 (з однією правильною відповіддю)

Що зображено на малюнку?



- А) Висячі сади Семіраміди
- Б) Тигрові сади Семіраміди
- В) Єгипецький дворець чудес
- Г) Парк Юрського періоду

### ? Запитання №4 (з однією правильною відповіддю)

Що таке ландшафт?

- |   |  |
|---|--|
| <input type="radio"/> А) Це ділянка географічної оболонки, що формується в результаті тривалої роботи людства на певній території | <input type="radio"/> Б) Це ділянка географічної оболонки, що формується в результаті тривалої взаємодії компонентів природи на певній території |
| <input type="radio"/> В) Це розробка та впровадження заходів щодо перетворення та оформлення земельної ділянки                    | <input type="radio"/> Г) це страва французької кухні, що подають з морепродуктами  |

### ? Запитання №5 (з кількома правильними відповідями)

Процес розробки проекту ландшафтного дизайну включає в себе кілька етапів. Які?

- |   |  |
|---|--|
| <input type="checkbox"/> А) Обговорення розміру бюджету та побажань | <input type="checkbox"/> Б) реєстрація в соціальній мережі     |
| <input type="checkbox"/> В) фотографування ділянки                  | <input type="checkbox"/> Г) запрошення священика для освячення |
| <input type="checkbox"/> Г) проба ґрунту                            | <input type="checkbox"/> Д) створення ескізу                   |

### ? Запитання №6 (з однією правильною відповіддю)

Сад з геометрично правильним плануванням і чітко вираженою симетричною композицією це:

- |   |   |
|---|---|
| <input type="radio"/> А) геометричний стиль | <input type="radio"/> Б) епатажний стильс |
| <input type="radio"/> В) сільський стиль    | <input type="radio"/> Г) класичний стиль  |

? Запитання №7 (з однією правильною відповіддю)

Що це за стиль?



А) кантрі



Б) фюжен

В) карамболь

Г) технічний

? Запитання №8 (з однією правильною відповіддю)

Знайди зайве




? Запитання №9 (з однією правильною відповіддю)

З яких елементів складається ландшафтний дизайн?

- А) Будівлі, споруди
- Б) Басейни, декоративні споруди
- В) Клумби і газони, зелені насадження
- Г) Всі варіанти вірні

? Запитання №10 (з кількома правильними відповідями)

Виберіть фото, на яких зображена альтанка:



? Запитання №11 (з полем для вводу відповіді)

Як вважаєте, чи можна назвати ландшафтним дизайном висячі сади Семіраміди ?

відповідь Так або Ні.

Ваша відповідь: \_\_\_\_\_

? Запитання №12 (з однією правильною відповіддю)

Знання яких шкільних предметів потрібно митцю для створення красивого ландшафтного дизайну?

- |   |   |
|---|---|
| <input type="radio"/> А) природознавство, біологія, хімія | <input type="radio"/> Б) трудове навчання                   |
| <input type="radio"/> В) математика, фізика               | <input type="radio"/> Г) знання з усіх навчальних дисциплін |